

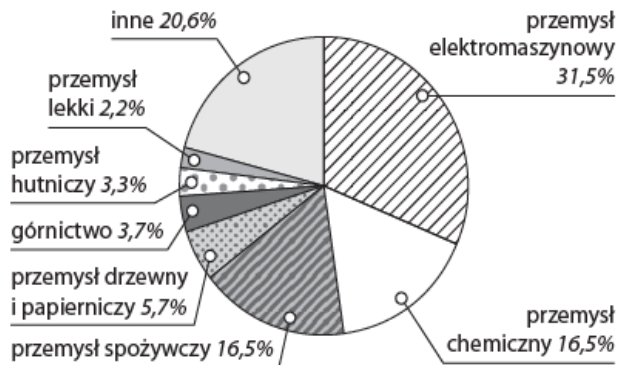
Sprawdzian wiadomości z geografii w kl. VII
"Rolnictwo i przemysł Polski" - modyfikacja

1. Na podstawie danych w tabeli uzupełnij zdania właściwymi informacjami.

Rodzaj uprawy	Wielkość zbiorów (w mln t)				
	1970	1980	1990	2000	2015
buraki cukrowe	12,7	10,1	16,7	13,1	9,3
pszenica	4,6	4,2	9,0	8,5	10,8
ziemniaki	50,3	26,4	36,3	24,2	6,2
żyto	5,4	6,6	6,1	4,0	2,0

- a) Zbiory pszenicy były największe w roku.
 b) Zbiory buraków cukrowych w 1990 roku wyniosłymln t.

2. Na podstawie wykresu podkreśl zdanie zawierające prawdziwe informacje.



- a) Górnictwo stanowi 37 % produkcji przemysłowej.
 b) Przemysł spożywczy stanowi 5,7% produkcji przemysłowej Polski.
 c) Przemysł chemiczny stanowi 16,5% produkcji przemysłowej.

3. Podkreśl nieodnawialne źródła energii:

*uran, węgiel kamienny, energia wiatru, energia wody, węgiel brunatny,
 energia słoneczna, gaz ziemny*

4. Na mapie literami A–D zaznaczono główne porty morskie Polski. Podaj nazwy portów zaznaczonych literami A i D.

- A –
 D –



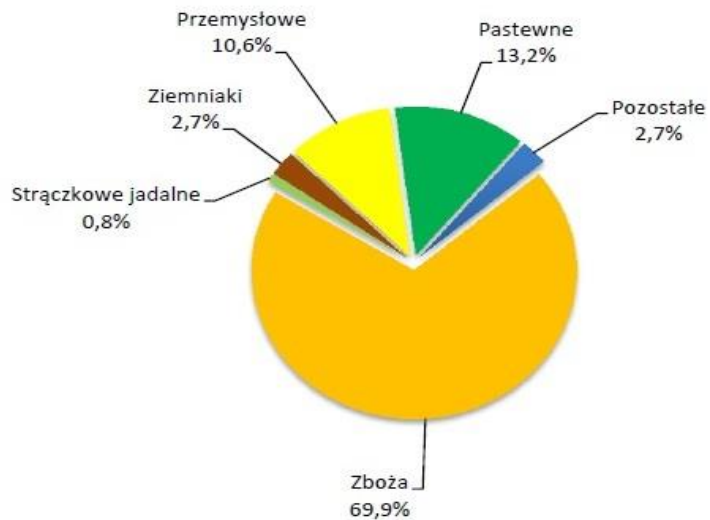
5. Z podanych roślin podkreśl zboża uprawiane w Polsce.

owies, buraki cukrowe, żyto, chmiel, rzepak, pszenica

6. Przy zdaniu prawdziwym napisz P, przy fałszywym F.

a) W Polsce w strukturze upraw największy % mają rośliny (растения) przemysłowe (промышленные)

Skorzystaj z wykresu obok



b) W Polsce największy udział w strukturze produkcji energii mają elektrownie gazowe

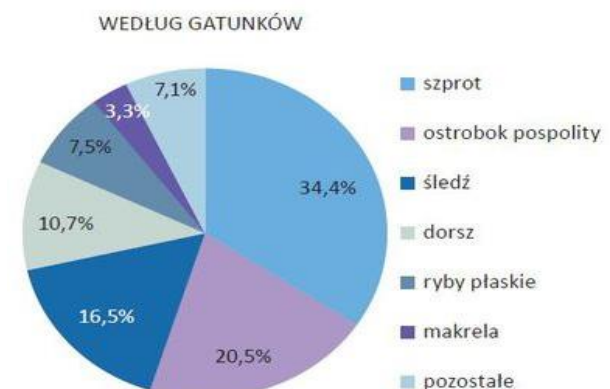
Skorzystaj z wykresu obok



c) W Polsce łowi się najwięcej ryb - dorszy.

Skorzystaj z wykresu obok.

Struktura połowów ryb i innych organizmów morskich w 2014 r.



Opracowała Iwona Kmieć